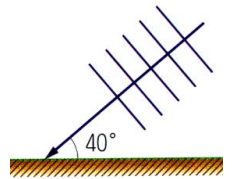


- () 1. 編號K16地震站測得7月15日17時02分的地震震源，在K16東南方3600公尺處，若已知地震波在地殼的傳播速率約4000公尺／秒，則該震波由震源傳至K16共約需多少秒？
 (A)7.2 (B)3.6 (C)1.8 (D)0.9。

【答案】：(D)

【解析】：



- () 2. 有一直線水波往一障礙物前進，如右圖，當水波遇到障礙物之後，將產生反射現象，試問此水波的人射角與反射角各為多少度？

(A)40度、40度 (B)50度、50度 (C)40度、50度 (D)50度、40度。

【答案】：(B)

【解析】：

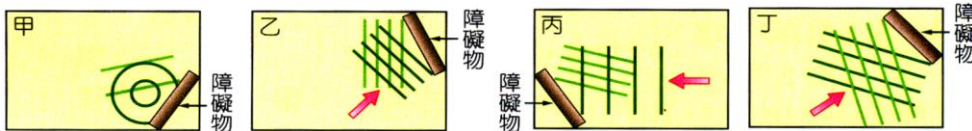
- () 3. 我們在聆聽樂器演奏時，所聽到的聲音，下列敘述何者錯誤？

(A)樂器引起空氣的振動愈大者，聲音愈大 (B)發出聲音愈大，傳播速率愈快 (C)頻率較高者，聽起來音調較高 (D)能區分各種樂器的聲音，是因為它們的音色不同。

【答案】：(B)

【解析】：

- () 4. 純純以木塊作障礙物，做了多次的水波反射實驗，結果如下圖甲、乙、丙、丁。則純純所看到的反射水波中不可能有下列何種情形？



(A)甲丙 (B)乙丁 (C)乙丙 (D)甲丁。

【答案】：(A)

【解析】：

- () 5. 右圖為連續週期波，若波源做1次完整振動花了0.8秒，則此波由位置a傳到位置b，共需要多少秒？

(A)1.4 (B)1.2 (C)1.0 (D)0.8。

【答案】：(A)

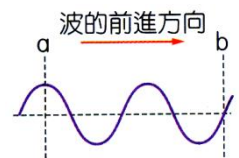
【解析】：

- () 6. 已知0°C時，聲音在空氣中傳播速率為331公尺／秒，而溫度每升高1°C，其速率增加0.6公尺／秒。若小明站在甲山上鳴槍，經過1.6秒後聽到由乙山反射回來的回聲，且當時山上氣溫為15°C，則甲乙兩山間的距離約為多少公尺？

(A)136 (B)272 (C)544 (D)1088。

【答案】：(B)

【解析】：



- () 7. 在「不可能的任務」和「變臉」的電影中，男主角經由「易容」換成他人的臉之外，還利用特殊的晶片放在喉部以模仿他人的聲音，這種模仿他人的聲音，主要是模仿下列何項效果？

(A)振幅 (B)頻率 (C)音色 (D)聲速。

【答案】：(C)

【解析】：

- () 8. 今有四種振動均在同一實驗室內產生聲音，它們所產生的聲音特性如右表。有關它們在空氣中產生的聲音敘述，下列何者正確？


(A)人耳均可以聽見此四種聲音 (B)人耳可聽見的範圍內，音調最高的是乙 (C)在人耳可聽見的範圍內，響度最大的是丙 (D)四種聲音的速率皆相同。

振動	響度 (分貝)	頻率 (Hz)
甲	50	15
乙	100	300
丙	20	12000
丁	60	6000

【答案】：(D)

【解析】：

- () 9.如右圖，棠棠敲擊音叉後，一旁以細線懸掛的保麗龍球會不停的跳動，當音叉發聲停止後，小球又停止跳動，則此現象說明下列哪件事？
(A)保麗龍球受到靜電力作用而振動 (B)保麗龍球受到重力作用而振動 (C)保麗龍球受到磁力作用而振動 (D)保麗龍球受到音叉振動而振動。



【答案】：(D)

【解析】：

- () 10.已知某溫度時，聲音在空氣中的速度為 340m/s ，萱萱站在兩山壁間鳴槍，隔 0.4 秒聽到第一次回聲，再隔 1.2 秒聽到第二次回聲，則兩山壁相距多少公尺？
(A)170 (B)340 (C)408 (D)680。

【答案】：(B)

【解析】：

- () 11.FBI的探員在跟蹤毒梟時，探員的頭不小心撞到一面鑼，發出一聲巨響且餘音不停，為了避免曝露探員所在位置，必須立即停止聲波再傳遞出去，請問他該怎麼做才好？
(A)用衣服擋在大鑼前面 10 公分處，讓聲音傳不出去 (B)用頭撞一下大鑼的背面，以抵消振動 (C)用手將大鑼按住，使大鑼的振動停止 (D)原地禱告，祈求聲音趕快消失。

【答案】：(C)

【解析】：

- () 12.高雄舉辦的世運會中有精彩的水上芭蕾舞比賽項目，然而舞者在水中能聽到音樂聲嗎？
(A)能，因音樂聲可以不經由介質傳遞 (B)不能，因為水不可當作傳聲的介質 (C)能，因水可以當作傳聲介質 (D)不一定，要視水的溫度而定。

【答案】：(C)

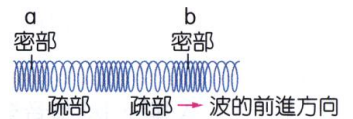
【解析】：

- () 13.雙雙敲擊甲、乙兩音叉，甲音叉以振動頻率 1000 赫茲發出聲音，音量為 60 分貝，乙音叉以振動頻率 3000 赫茲發出聲音，音量為 30 分貝。哪一音叉發出的聲音傳播較遠仍能被聽見？
(A)甲 (B)乙 (C)兩者一樣遠 (D)以上皆有可能。

【答案】：(A)

【解析】：

- () 14.雯雯將一彈簧不斷的向右壓縮再放開後，得到如右圖之情形，已知a至b的距離為 12 公分，週期為 0.4 秒，則波速為多少公分/秒？
(A)15 (B)30 (C)4.8 (D)2.4。



【答案】：(A)

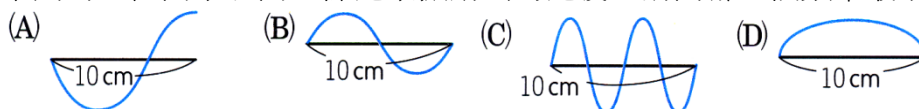
【解析】：

- () 15.有關波的性質敘述，下列何者錯誤？
(A)介質不會隨著波的傳播而傳播出去 (B)電磁波不需依靠介質傳遞 (C)力學波依據介質的運動方向分為橫波與縱波 (D)聲波在真空中傳遞時遵守「波速 = 波長 x 頻率」。

【答案】：(D)

【解析】：

- () 16.下列為四位同學以同一條繩索振動出的繩波，請問哪一個頻率最小？



【答案】：(D)

【解析】：

- () 17. 在國境之南的屏東，小白在月臺上等火車時，總是先感覺到鐵軌的振動，才聽到火車靠近的聲音，道主要因為何？
(A) 只有鐵軌才能傳播聲音 (B) 屏東的地震頻繁 (C) 有其他的人在鐵軌上走動 (D) 鐵軌的傳聲速率較空氣快。

【答案】：(D)

【解析】：

- () 18. 英國科學家波以耳曾經做了有名的鐘罩實驗，當抽氣機將鐘罩內氣體抽光時，將無法聽見電鈴的聲音，則此實驗可獲得下列哪一項結論？
(A) 介質振動的愈快，聲音的頻率愈高 (B) 物體必須迅速的振動才能產生聲音 (C) 必須有傳聲介質才能聽見聲音 (D) 振動的幅度愈大，聲音愈大聲。

【答案】：(C)

【解析】：

- () 19. 實驗室裡，雅雅取出五支音叉，其振動頻率分別為：(甲)150赫；(乙)250赫；(丙)200赫；(丁)150赫；(戊)250赫。試問敲擊(甲)音叉之後，哪個音叉將產生共鳴？
(A) 乙 (B) 丙 (C) 丁 (D) 戊。

【答案】：(C)

【解析】：

- () 20. 當聲波遇到障礙物而發生反射時，下列哪些會改變？
(甲)響度；(乙)頻率；(丙)波的進行方向；(丁)波速。
(A) 甲乙 (B) 甲丙 (C) 乙丁 (D) 甲丁。

【答案】：(B)

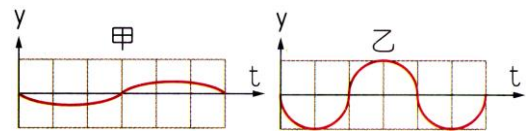
【解析】：

- () 21. 在無風的狀況下，有關聲音在空氣中傳播時的特性，下列敘述何者正確？
(A) 聲音在空氣中傳播時，是一種能量的傳遞 (B) 波的傳播方向與空氣分子的運動方向相互垂直 (C) 聲音在密度均勻的空氣中傳播時，任意位置都會發生折射或反射 (D) 空氣對聲音傳播會形成阻礙，若沒有空氣，則聲音的傳播速率會更快。

【答案】：(A)

【解析】：

- () 22. 霖霖在 25°C 的環境下，敲擊甲、乙兩個不同的音叉，產生聲波，其振動位移(y)與時間(t)的關係如右圖？(假設圖中座標)每格表示的單位長度相同，則下列敘述何者最適當？



- (A) 甲聲波的響度比乙大，音調比乙低 (B) 甲聲波的響度比乙小，音調比乙高 (C) 甲聲波的響度比乙大，音調比乙高 (D) 甲聲波的響度比乙小，音調比乙低。

【答案】：(D)

【解析】：

- () 23. 我們能分辨狗和貓的聲音，是因為狗和貓的聲音有何不同？
(A) 響度不同 (B) 音調不同 (C) 音色不同 (D) 傳播聲音介質不同。

【答案】：(C)

【解析】：