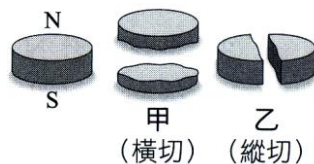


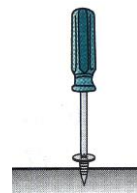
班級：\_\_\_\_\_班 座號：\_\_\_\_\_ 姓名：\_\_\_\_\_

1. 如圖，將一圓餅形磁鐵分成甲、乙兩種情形，則何圖的斷口面可互相吸引？



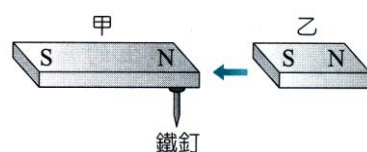
- (A)甲 (B)乙 (C)甲、乙均可 (D)甲、乙均不可。

2. 五金行所販賣的螺絲起子，如右圖，其前端可以吸取螺絲釘，以方便鎖緊螺絲，則下列有關螺絲起子可以吸引螺絲釘的敘述，何者正確？



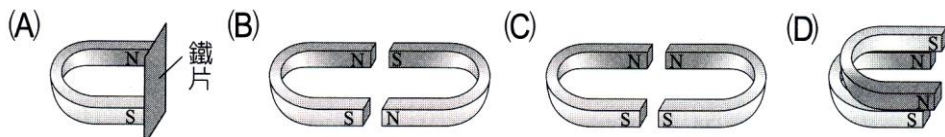
- (A)此螺絲起子的前端是靠靜電力來吸取螺絲釘 (B)此螺絲起子可吸住螺絲釘，所以螺絲起子是屬於暫時磁鐵 (C)此螺絲起子可吸住螺絲釘，所以螺絲起子是屬於永久磁鐵 (D)螺絲起子本身不具磁性，所以是靠螺絲釘本身的磁性來吸取。

3. 兩磁性相當的條形磁鐵，若乙磁鐵依箭頭方向向左接近甲磁鐵，則甲的鐵釘

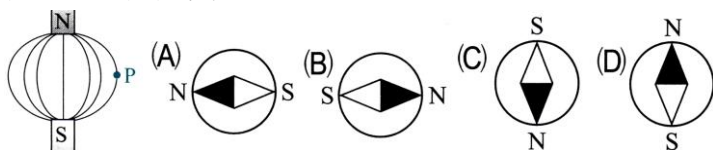


- (A)仍被吸住，因磁場增強 (B)可能會掉下，因甲磁棒的磁性會減弱 (C)鐵釘不會掉下，因乙的移動不影響甲的磁性 (D)仍被吸住，因兩磁鐵的磁性是固定的，不會因另一磁鐵的靠近而改變。

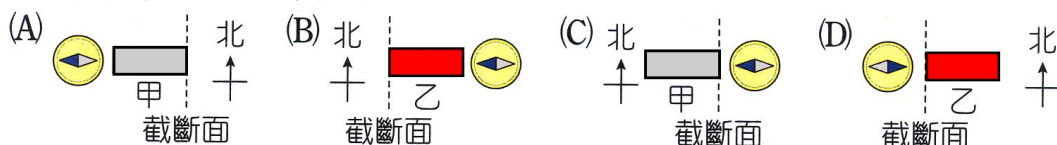
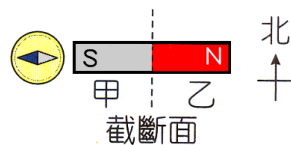
4. 下列何圖磁鐵的放置不適合永久保持磁性？



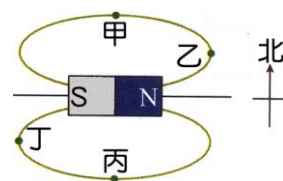
5. 下圖兩磁極間實線表示磁力線，若將一磁針置於 P 點，則磁針指向下列何者正確？



6. 一磁棒的 N 極與 S 極如右圖，若將此磁棒由中央截成甲、乙兩段小磁棒，取這兩段小磁棒分別靠近與圖中相同的磁針，則下列示意圖中，何者最不可能為實際情況？



7. 將長條形磁鐵放置在水平桌面上，在磁鐵周圍分布的磁力線示意圖如右圖。今在水平桌面上甲、乙、丙、丁四點各放置一個磁針，若地球磁場的影響忽略不計，則關於磁針 N 極的指向，下列何者錯誤？



- (A)甲：向西 (B)乙：向北 (C)丙：向西 (D)甲與丙的指針指向相反 (E)丁與乙的指針指向相同。

8. 將軟鐵塊置於均勻磁場中，若使磁力線由軟鐵塊的左端進入，而從右端通出，則關於鐵塊的性質，下列何者正確？

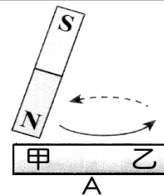
- (A)鐵塊會被磁化成為永久磁鐵 (B)鐵塊右端磁極被感應為 S 極 (C)鐵塊磁化後的磁場方向與外加磁場的方向相同 (D)外加磁場由左邊進入，由右邊通出，因此軟鐵塊的磁力線不是封閉曲線 (E)外加磁場消失後，軟鐵塊仍能保持磁性。

9. 磁北與真北相同之處，有一方向向東的水平均勻磁場  $B$  恰與地磁水平分量  $B_e$  垂直，如有一


可在水平面上自由轉動之磁針置於磁場  $B$  中，若其 N 極指向為北偏東  $30^\circ$ ，則  $\frac{B}{B_e} = ?$

- (A)  $\frac{1}{2}$  (B)  $\frac{\sqrt{3}}{2}$  (C)  $\frac{\sqrt{3}}{3}$  (D)  $\sqrt{3}$  (E) 2。

10. **momo** 手拿一根軟鐵棒 A，以永久磁鐵 N 極沿著固定向右的方向摩擦 A，如右圖，則摩擦一段時間後，關於軟鐵棒之磁性描述，下列何者正確？  
 (A) 甲端為 N 極，乙端為 S 極 (B) 甲、乙的上方皆為 N 極，下方皆為 S 極 (C) 軟鐵棒的磁極不斷變化，因此磁性最終消失 (D) 摩擦的過程可使軟鐵棒磁化，稱為電磁感應。

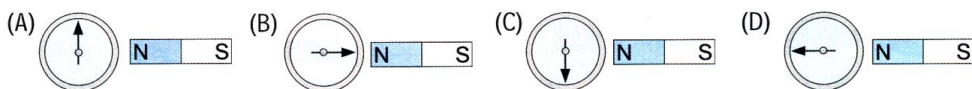


11. 一磁棒由中間分割成兩小段後分開，在分開的兩鐵棒間放一磁針，如右圖，則磁針的 N 極最後指向何方？  
 (A) ↑ (B) ↓ (C) ← (D) →。



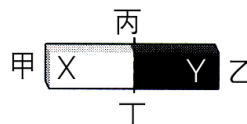
12. 關於磁力線性質的敘述，下列何者正確？  
 (A) 任何一條磁力線的兩端連結同性磁極 (B) 地球磁場的磁力線方向是由北方指向南方 (C) 磁力線上任一點的切線方向表示電荷在該點所受磁力的方向 (D) 升高溫度，可使磁極的原子具有較大的能量，因此磁性更強 (E) 磁力線的疏密程度代表磁場強度的強弱，磁力線愈密，表示該處的磁場強度愈強。

13. 一磁鐵的 N 極附近置一磁針，磁針的箭矢尖端代表磁針之 N 極，則下列圖形何者正確？



14. 將一磁針置於鄰近磁鐵的某處，其方位如  $N \leftarrow \text{磁針} \rightarrow S$  所示，則下列敘述何者正確？

(A) 若磁針置於圖中的甲處時，則 X 為 N 極，Y 為 S 極 (B) 若磁針置於圖中的乙處時，則 X 為 S 極，Y 為 N 極 (C) 若磁針置於圖中的丙處時，則 X 為 N 極，Y 為 S 極 (D) 若磁針置於丁處時，則 X 為 N 極，Y 為 S 極 (E) 磁針不論置於甲處或乙處，X 皆為 S 極，Y 皆為 N 極。

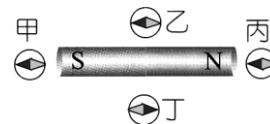


15. 將鐵釘放在一根磁鐵附近時能被吸引，下列敘述何者正確？  
 (A) 靠近磁鐵 N 極的一端生成 N 極 (B) 靠近磁鐵 N 極的一端生成 S 極 (C) 將磁鐵移開後，鐵釘的磁性仍可保存一段時間 (D) 鐵釘靠近 N 極或靠近 S 極，皆可感應得到相同的磁極 (E) 鐵釘的下端與上方的磁鐵為異名極。

16. 有關於磁場或磁力線的性質，下列敘述何者正確？  
 (A) 磁力線愈長，則磁場愈強 (B) 靜止的電荷，會同時受到電場及磁場的作用 (C) 鄰近 N 極的磁場比鄰近 S 極的磁場強 (D) 兩根帶電的磁鐵棒會同時有靜電力、磁力及萬有引力的作用 (E) 任何位置的磁力線方向必定是從 N 極指向 S 極。

17. 右圖中的棒形磁鐵，周圍置有甲、乙、丙、丁四個羅盤(其中藍色部分表示 N 極、灰色部分表示 S 極)，在受到棒形磁鐵的磁力線作用下，哪個羅盤的指針偏向是正確的？

(A) 只有甲正確 (B) 乙丙皆正確 (C) 只有乙正確 (D) 只有丙正確 (E) 只有丁正確。



18. 下列敘述，何者正確？  
 (A) 磁鐵的 N 極和 S 極可以單獨存在 (B) 臺灣位處北半球，故磁鐵的 N 極磁力比 S 極強 (C) 在地磁南極的上方，懸吊的磁針指向正北方 (D) 由於磁軸與自轉軸夾角  $11^\circ$ ，因此磁針所指示的北方與正北方夾角相差  $11^\circ$  (E) 在地磁北極的上方，懸吊的磁針指向地面。

19. 將磁針擺在均勻磁場中，考慮磁場對磁針所施之力，下列敘述何者正確？  
 (A) 磁針兩極均不受力，所以總磁力為零 (B) 磁針兩極受相同方向的力，所以總磁力不為零 (C) 磁針兩極受相反方向的力，所以總磁力為零 (D) 磁針兩極受相反方向的力，但總磁力不為零 (E) 磁針 N 極受力，但 S 極不受力，所以總磁力不為零。

20. 有關磁鐵的性質，下列敘述何者正確？  
 (A) 金銀銅鐵皆可被磁化成為磁鐵 (B) N 極只受磁力作用時，N 極的運動的軌跡極為磁力線 (C) 一條磁力線與一條電力線可能產生交點 (D) 靜止的電荷可以產生磁力線 (E) 磁力線對靜止的電荷可以產生作用。